



Mapy světadíl Afrika

Seznam map


Poloha Afriky (1)

Podnebí Afriky (2)

Fyzické mapy – vodstvo, hory, pouště (3 a 4)

Politické mapy – celkový přehled, severní, západní, střední, jižní a východní Afrika (5 až 15)

Rejstříky

 Teiresiás

Edice Teiresiás

Zvětšeným tiskem vydala a vytiskla Masarykova univerzita (Žerotínovo nám. 617/9, 601 77 Brno)

Středisko pro pomoc studentům se specifickými nároky (Komenského nám. 2, 602 00 Brno)

Petr Červenka

Brno 2023, 1. vydání

ISBN 978-80-280-0295-4

© 2023 Masarykova univerzita

O atlase

Atlas tvoří samostatné mapové listy sepnuté snímatelným plastovým hřbetem. Je tak možné jej jednoduše rozebrat, pracovat jen s jedním listem a následně jej zase složit (natáhnout hřbet na listy). Atlas obsahuje jak mapy fyzické, tak politické – seznam map je na titulní stránce.

Součástí map jsou textové popisky, a to buď formou celých slov, nebo zkratk v případě nedostatku místa – jejich vysvětlení je vždy uvedeno v legendě na témž listu.

Zkratky zemí použité v politických mapách vycházejí z mezinárodního standardu ISO.

Popisky, které nebylo možné připojit přímo do mapy na místo, kam patří, jsou vyneseny mimo mapu a k objektu připojeny rovnou, případně lomenou vodicí čarou.

Politická mapa Afriky je rozdělena na oblasti (podle členění OSN) – pro každou oblast jsou vyhrazeny dva mapové listy: první, který nabízí nejprve celkový přehled a umístění dané oblasti (součástí názvu mapy je výraz „vymezení oblasti“) – je prakticky bez popisků, jen se zvýrazněním dané oblasti.

Druhý list pak obsahuje podrobné rozkreslení oblasti ve větším měřítku – včetně metropolí jednotlivých států, případně i dalších větších měst.

Základní grafická legenda:



hlavní město




jiné sídlo



vodicí čáry



jezera



pouště



hory



horský vrchol

Rejstřík místních názvů

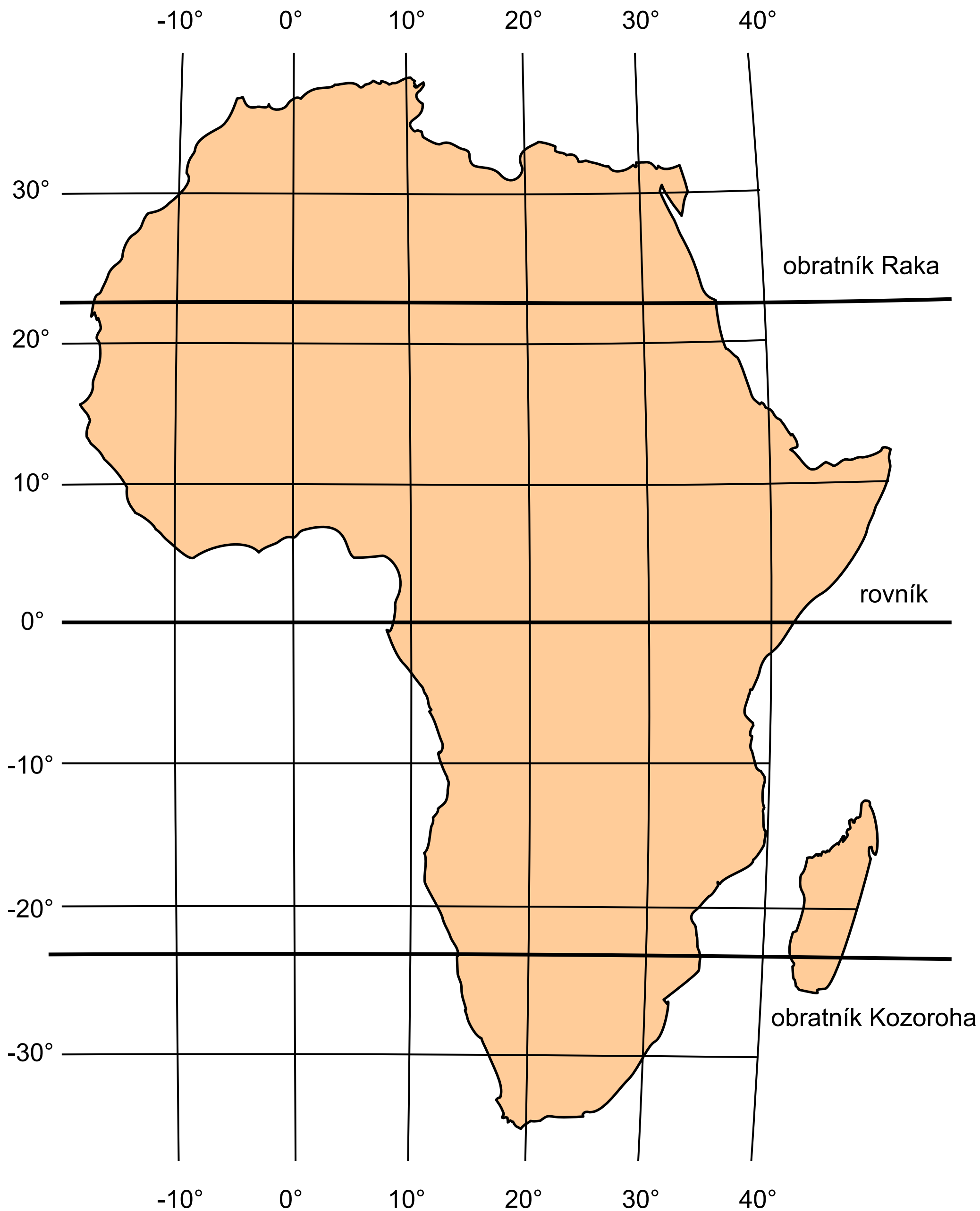
Rejstřík obsahuje toponyma (názvy sídel, řek, hor apod.) použitá napříč celým atlasem. Za názvy sídel je v závorce dvoupísmenná zkratka státu, do kterého patří, a číslo mapy, ve které se jméno vyskytuje. Hlavní města jsou navíc označena znakem + za zkratkou státu, např. Káhira (eg +, 7). Toponyma jsou uvedena v abecedním pořadí. Seznam států i se svými zkratkami je na samostatném listu (č. 5b).

E-verze rejstříku je ke stažení na adrese

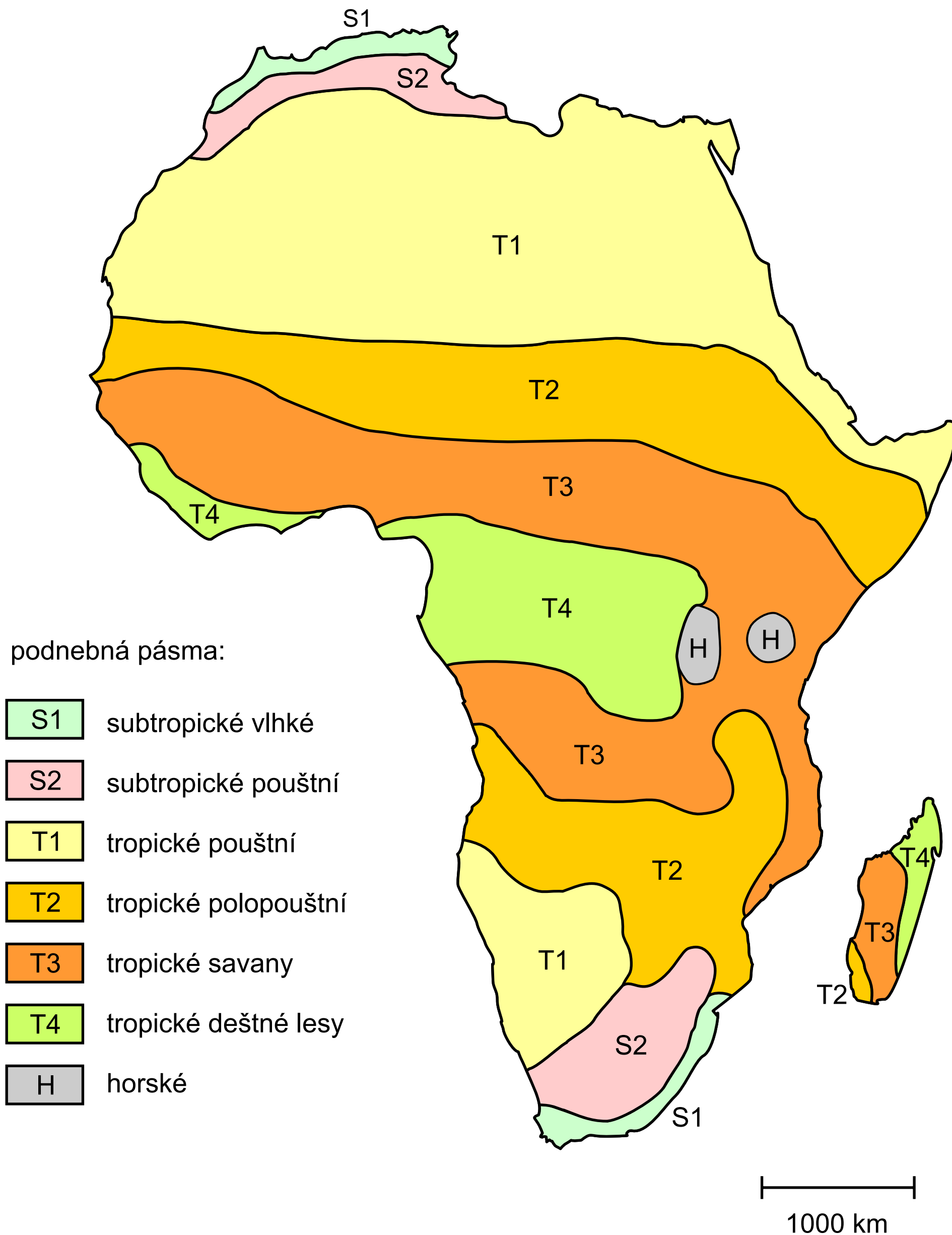
www.teiresias.muni.cz/knihovna-verejna/afrika-rejstrik.zip.

Abidžan (ci, 9)	Gibuti (dj +, 15)	Moundou (td, 11)
Abuja (ng +, 9)	Guinejská vysočina (pohoří, 4)	mys Dobré naděje (3)
Accra (gh +, 9)	Guinejský záliv (3)	Nairobi (ke +, 15)
Addis Abeba (et +, 15)	Harare (zw +, 15)	Namib (poušť, 4)
Adenský záliv (3)	Huambo (ao, 11)	N'Djamena (td +, 11)
Agadez (ne, 9)	Chartúm (sd +, 7)	Niamey (ne +, 9)
Ahaggar (pohoří, 4)	Indický oceán (3)	Niger (řeka,3)
Al-Ajún (eh +, 7)	Johannesburg (za, 13)	Nil (řeka,3)
Alexandrie (eg, 7)	Káhira (eg +, 7)	Nuadhibú (mr, 9)
Alžír (dz +, 7)	Kalahari (poušť, 4)	Nuakšott (mr +, 9)
Antananarivo (mg +, 15)	Kampala (ug +, 15)	Núbijská poušť (poušť, 4)
Asmara (er +, 15)	Kapské město (za, 13)	Oran (dz, 7)
Atlantský oceán (3)	Kigali (rw +, 15)	Orange (řeka,3)
Atlas (pohoří, 4)	Kilimandžáro (vrchol, 4)	Ouagadougou (bf +, 9)
Bamako (ml +, 9)	Kinshasa (cd +, 11)	Porto Novo (bj +, 9)
Bangui (cf +, 11)	Kongo (řeka,3)	Pretoria (za +, 13)
Banjul (gm +, 9)	Lagos (ng, 9)	Rabat (ma +, 7)
Benghazi (ly, 7)	Libreville (ga +, 11)	Rudé moře (3)
Benue (řeka,3)	Lilongwe (mw +, 15)	Sahara (poušť, 4)
Bissau (gw +, 9)	Limpopo (řeka,3)	Sarh (td, 11)
Brazaville (cg +, 11)	Lomé (tg +, 9)	Senegal (řeka,3)
Bujumbura (bi +, 15)	Luanda (ao +, 11)	Středozemní moře (3)
Conakry (gn +, 9)	Lusaka (zm +, 15)	Suezský průliv (3, 7)
Constantina (dz, 7)	Malabo (gq +, 11)	Tibesti (pohoří, 4)
Dakar (sn +, 9)	Maputo (mz +, 13)	Tripolis (ly +, 7)
Dodoma (tz +, 15)	Marakéš (ma, 7)	Tunis (tn +, 7)
Dračí hory (pohoří, 4)	Maseru (ls +, 13)	Volta (řeka,3)
Durban (za, 13)	Mbabane (sz +, 13)	Windhoek (na +, 13)
Džuba (ss +, 15)	Misrata (ly, 7)	Yamoussoukro (ci +, 9)
Etiopská vysočina (pohoří, 4)	Mogadišo (so +, 15)	Yaoundé (cm +, 11)
Fez (ma, 7)	Monrovia (lr +, 9)	Zambezi (řeka,3)
Freetown (sl +, 9)	Mopti (ml, 9)	
Gaborone (bw +, 13)	Mosambický průliv (3)	

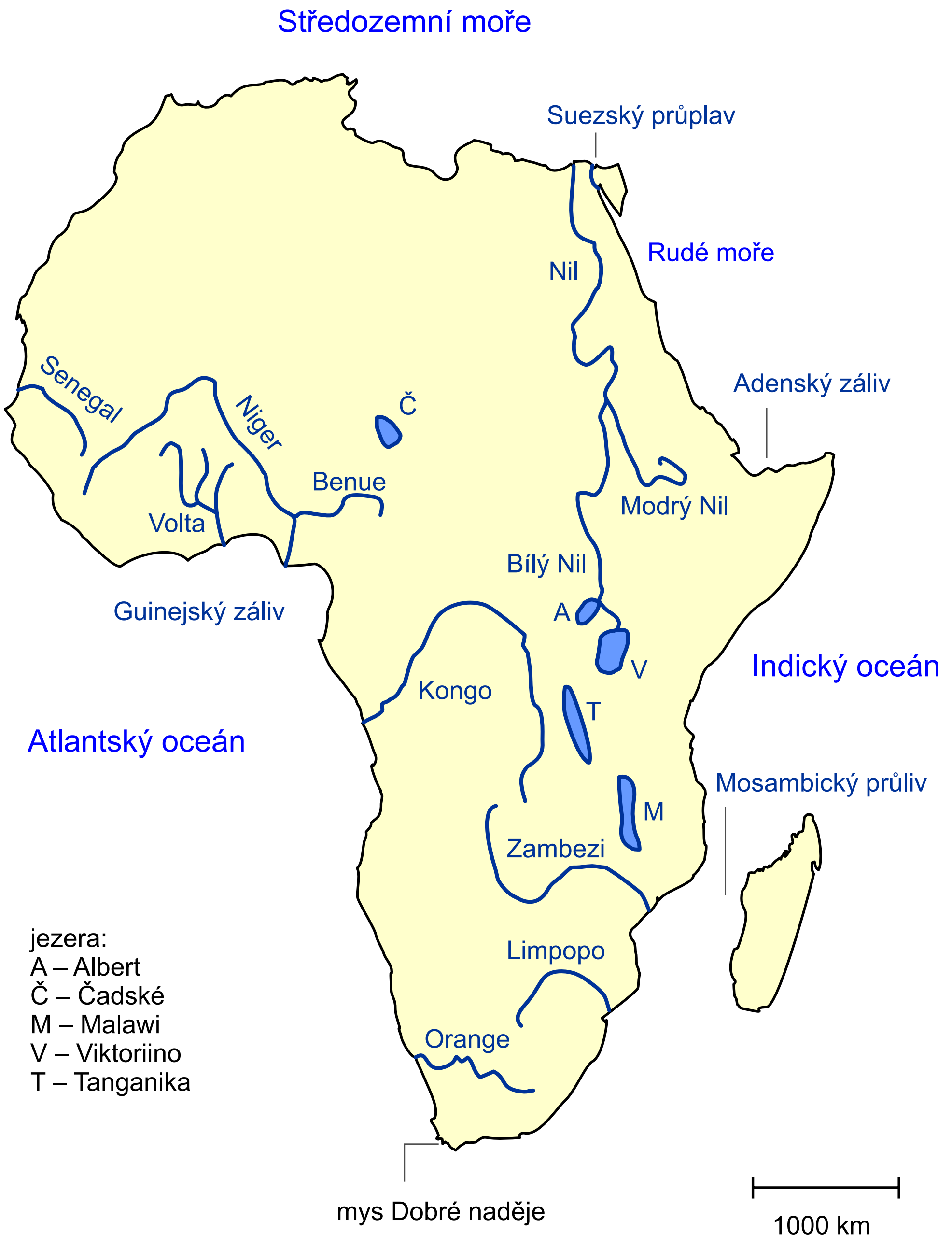
1. Afrika – geografická poloha



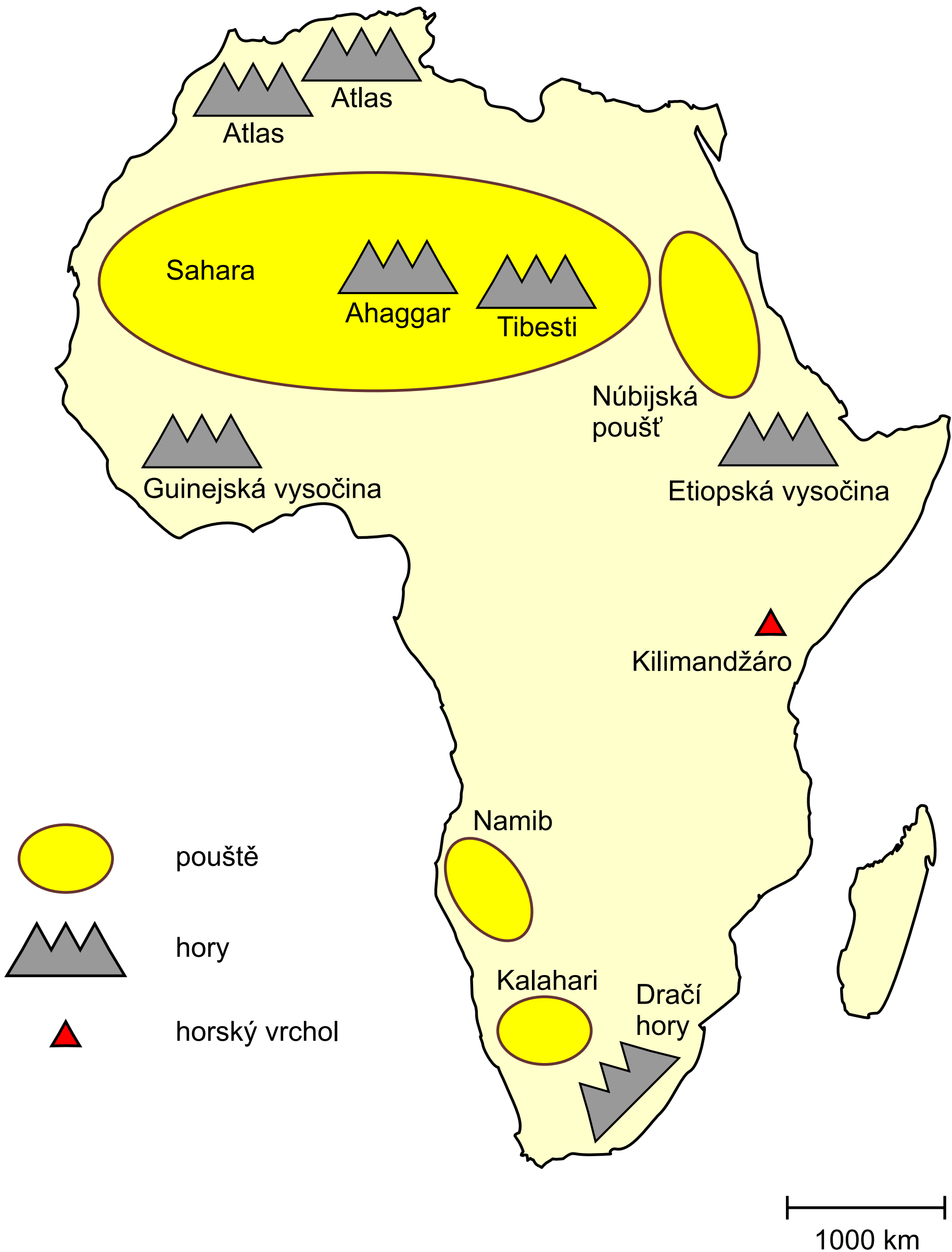
2. Afrika – podnebná pásma



3. Afrika – vodstvo



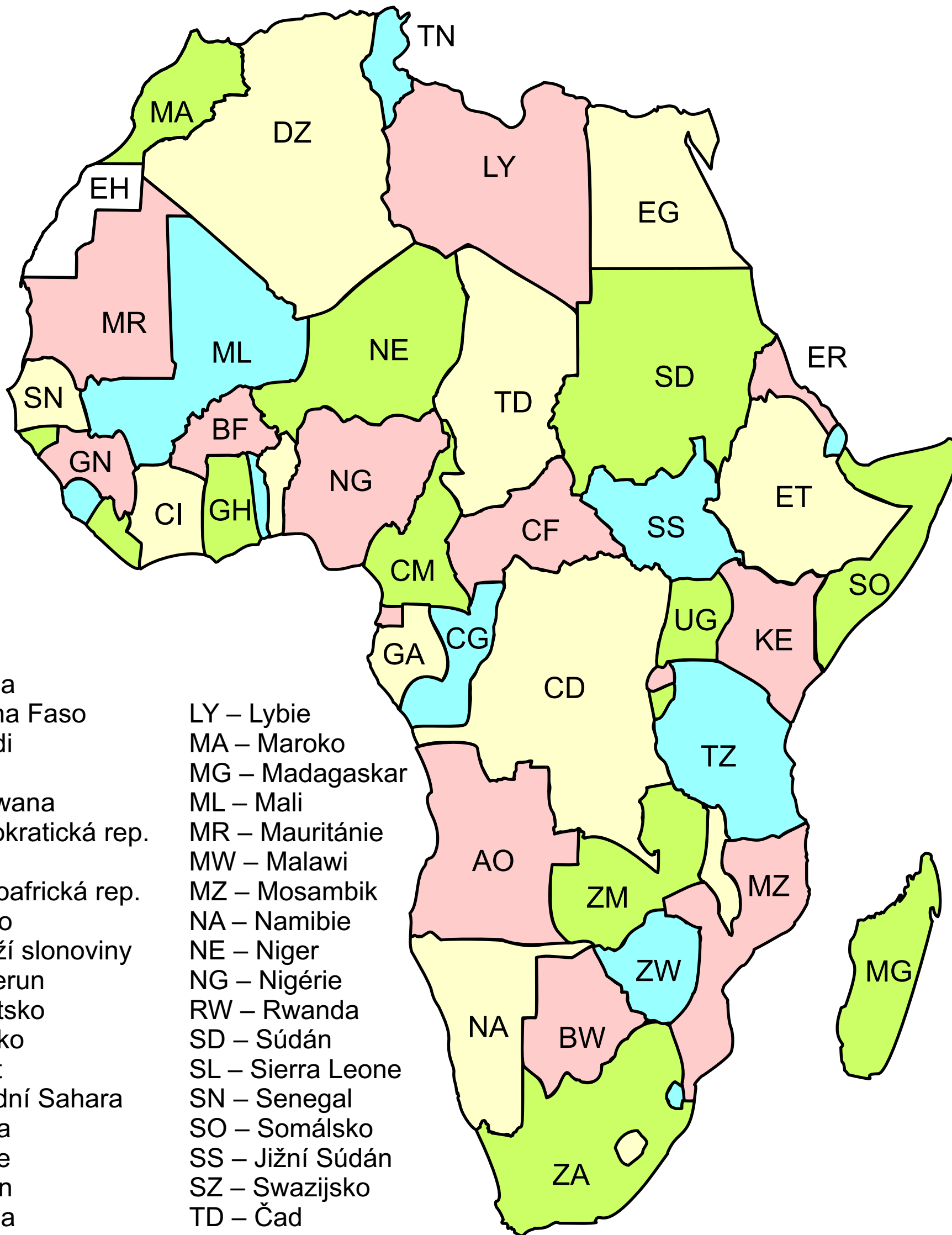
4. Afrika – pohoří a pouště



5a. Afrika – politická mapa

Mapa zahrnuje pouze pevninská území a ostrov Madagaskar, žádné jiné ostrovní státy.

Redakční poznámka: V případě zemí, k nimž se popisek nevešel, bude uveden až v detailním zobrazení daného regionu.

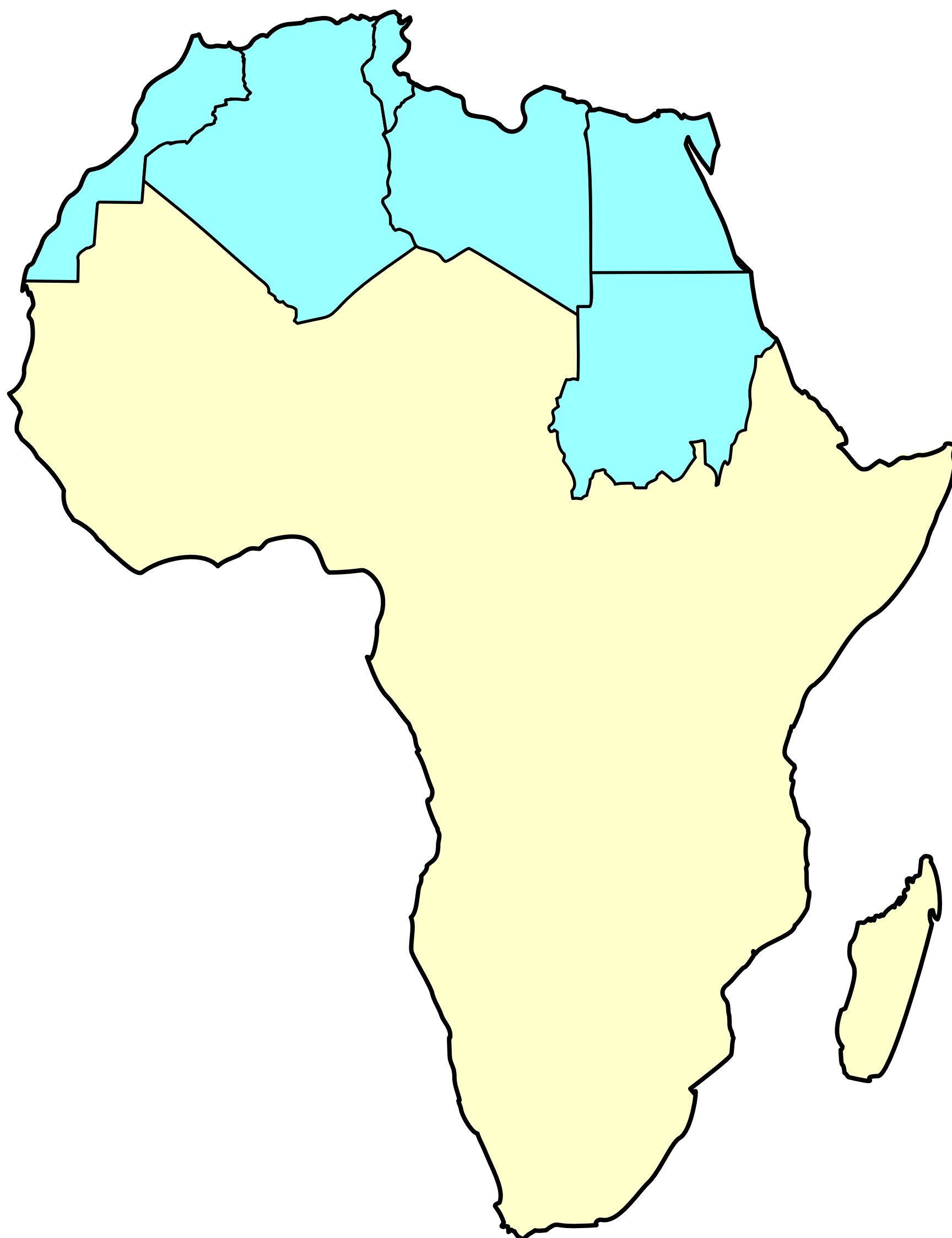


AO – Angola
BF – Burkina Faso
BI – Burundi
BJ – Benin
BW – Botswana
CD – Demokratická rep.
Kongo
CF – Středoafriická rep.
CG – Kongo
CI – Pobřeží slonoviny
CM – Kamerun
DJ – Džibutsko
DZ – Alžírsko
EG – Egypt
EH – Západní Sahara
ER – Eritrea
ET – Etiopie
GA – Gabon
GH – Ghana
GM – Gambie
GN – Guinea
GQ – Rovníková Guinea
GW – Guinea-Bissau
KE – Keňa
LR – Libérie
LS – Lesotho

LY – Lybie
MA – Maroko
MG – Madagaskar
ML – Mali
MR – Mauritánie
MW – Malawi
MZ – Mosambik
NA – Namibie
NE – Niger
NG – Nigérie
RW – Rwanda
SD – Súdán
SL – Sierra Leone
SN – Senegal
SO – Somálsko
SS – Jižní Súdán
SZ – Swazijsko
TD – Čad
TG – Togo
TN – Tunisko
TZ – Tanzanie
UG – Uganda
ZA – Jihoafrická republika
ZM – Zambie
ZW – Zimbabwe

1000 km

6. Severní Afrika – vymezení oblasti

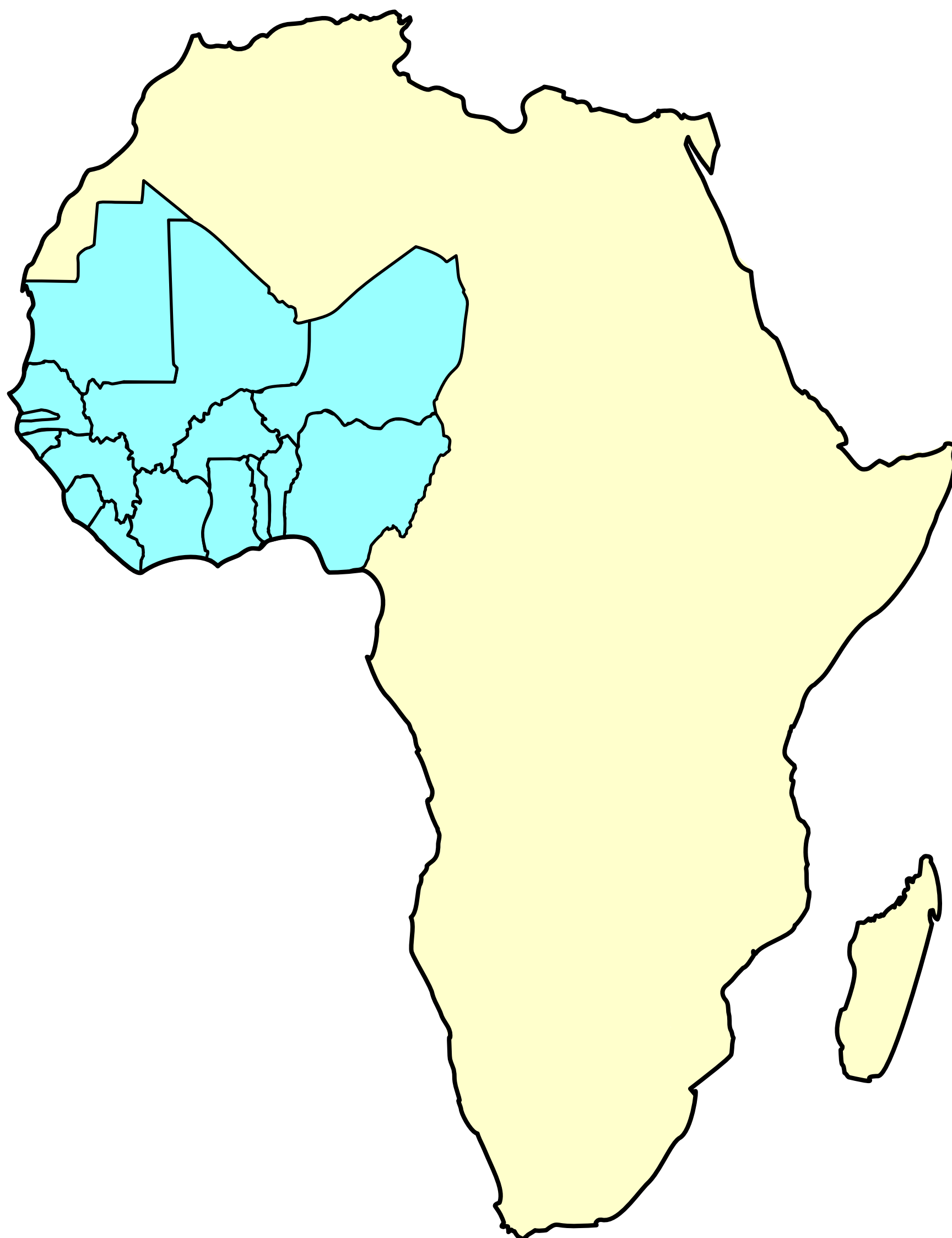


1000 km

7. Severní Afrika



8. Západní Afrika – vymezení oblasti



1000 km

9. Západní Afrika

města:

AB – Abidžan

F – Freetown

L – Lomé

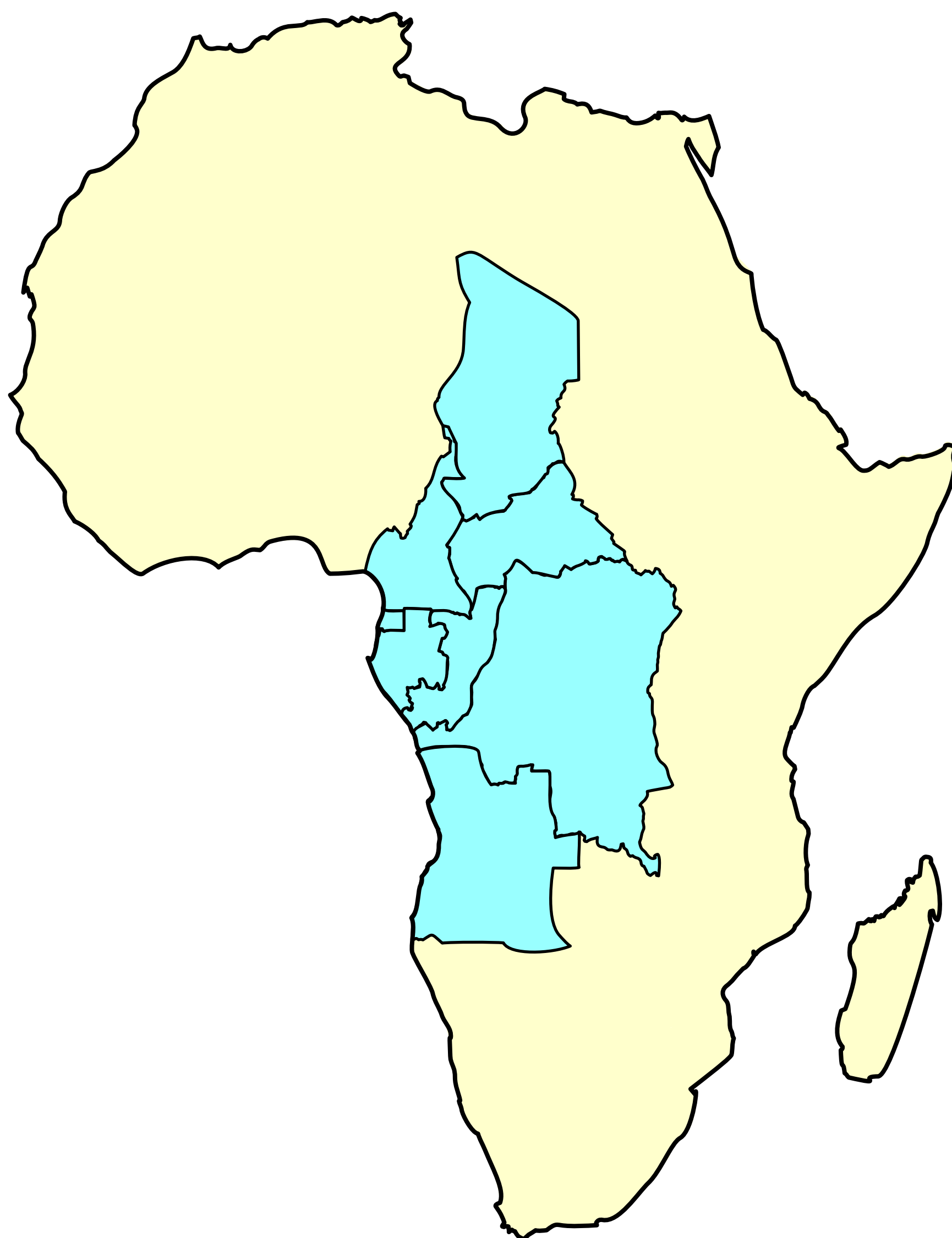
M – Monrovia

P – Porto Novo

Y – Yamoussoukro



10. Střední Afrika – vymezení oblasti



1000 km

11. Střední Afrika

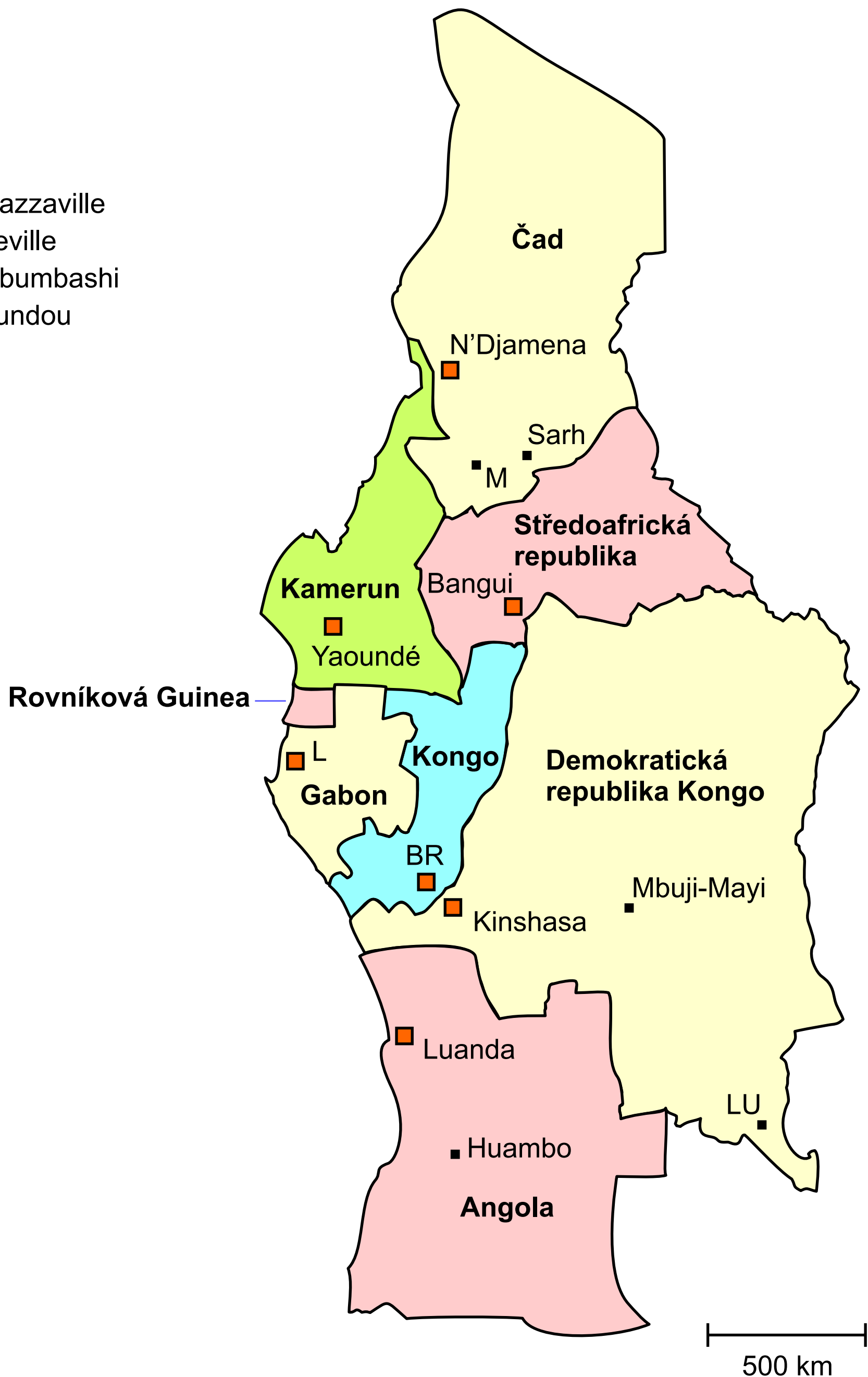
města:

BR – Brazzaville

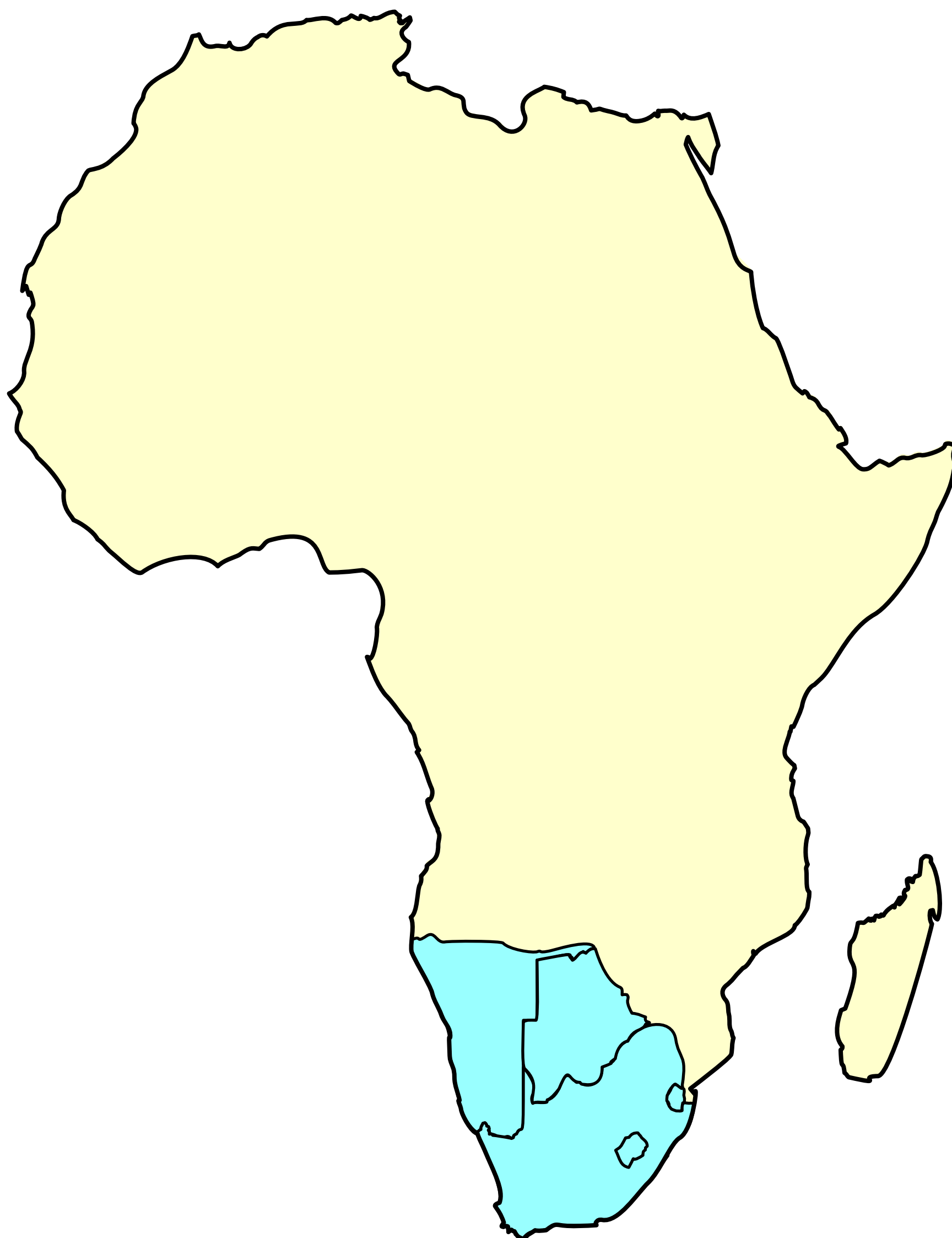
L – Libreville

LU – Lubumbashi

M – Moundou



12. Jižní Afrika – vymezení oblasti



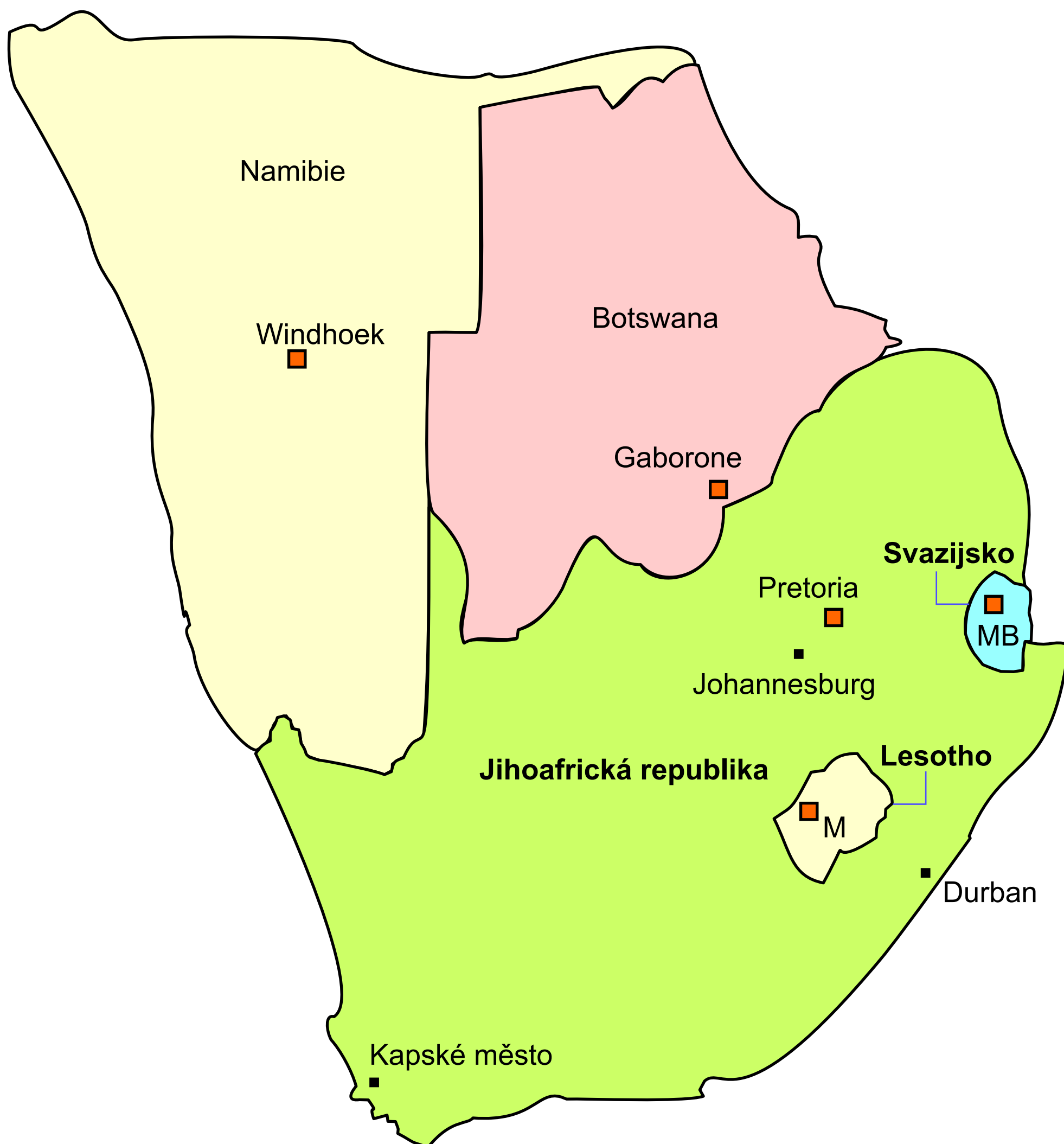
1000 km

13. Jižní Afrika

města:

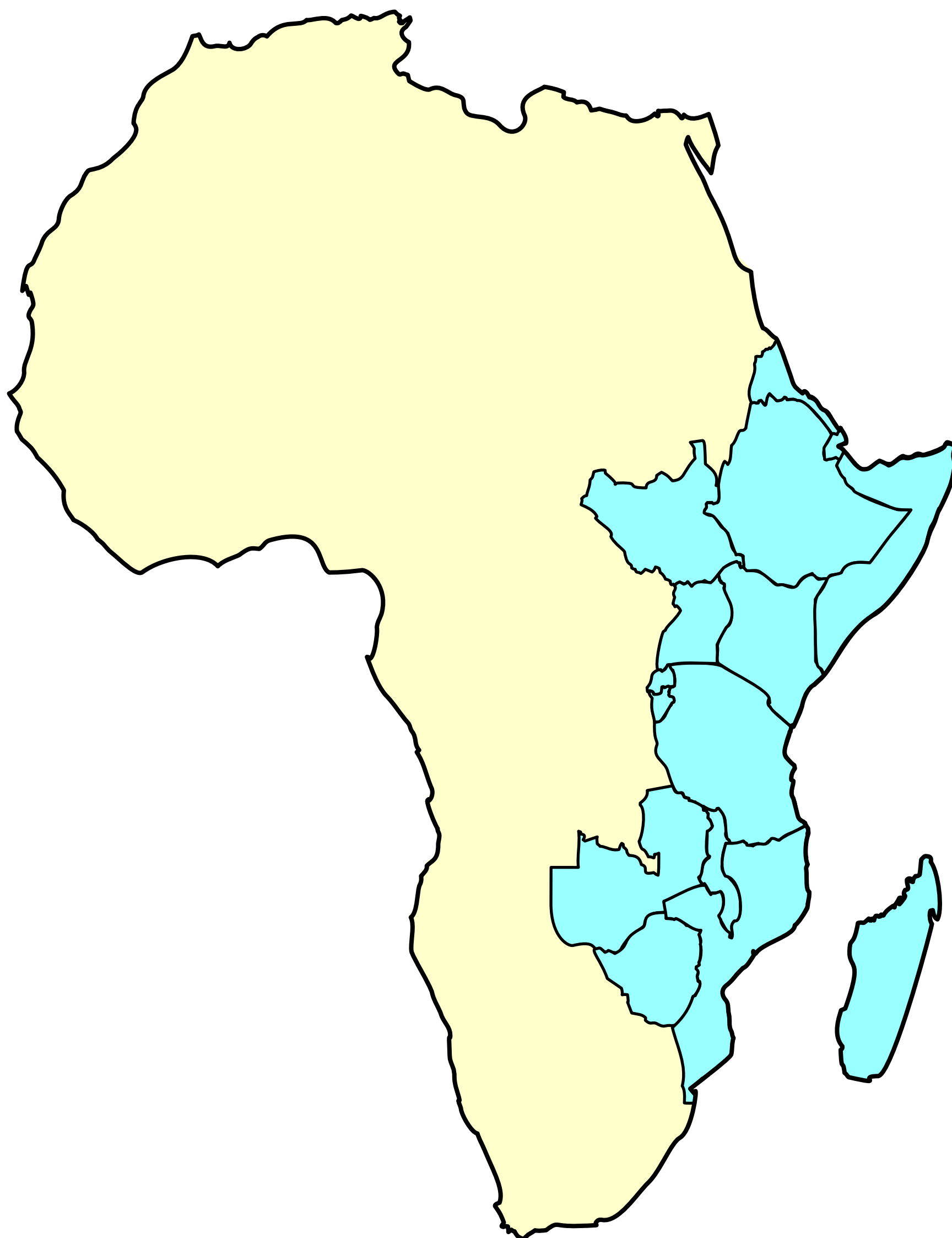
M – Maseru

MB – Mbabane



250 km

14. Východní Afrika – vymezení oblasti



1000 km

15. Východní Afrika

státy:

MW – Malawi

města:

as Asmara

an Antananarivo

